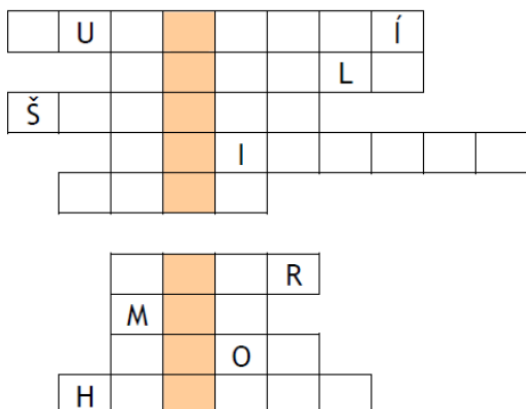


PRACOVNÍ LIST Č. 2 (5SVD1)

Cvičení č. 1: Vyluštěte křížovku.



1. správce hradu
2. jméno Habsburka, který porazil Přemysla Otakara II.
3. nemocnice a útulek pro chudé
4. velké ozdobné písmeno
5. panovnická hodnost
6. neobdělaná část pole
7. smrtelné středověké onemocnění
8. mince Václava II.
9. kamenné ohrazení města

Cvičení č. 2: Doplňte jméno Lucemburka dle charakteristiky.

rytíř, válečník, diplomat, často pobýval v zahraničí _____

slabý a nerozhodný panovník, vládl v těžkém období _____

císař a král, zasloužil se o rozkvet země a Prahy _____

proradný, lstivý, v Čechách odmítaný vládce _____

Cvičení č. 3: Doplňte jména manželek Karla IV.

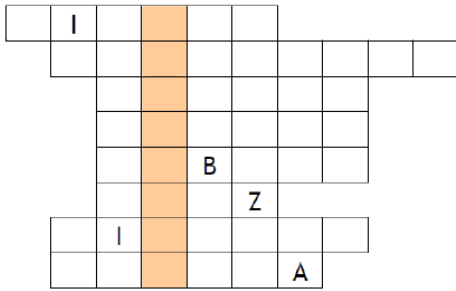
_____ byla o 23 let mladší. Porodila Václava, následníka trůnu. Zemřela při dalším porodu.

_____ byla jemná a hezká dívka. V době sňatku měli oba sedm let. Zemřela ve 32 letech.

_____ dokázala prý ohýbat rukama kovové pruty a meče. Byla o 31 let mladší než Karel IV. Porodila mu šest dětí a přežila ho o 15 let.

_____ dala králi syna, který bohužel zemřel. A brzy po něm umírá i tato mladičká královna.

Cvičení č. 4: Vyluštěte křížovku.



1. církevní představitel
2. hrad vybudovaný Karlem IV.
3. původní jméno Karla IV.
4. matka Karla IV.
5. povinnost poddaných ve středověké vesnici
6. sídlo zemana
7. poslední český král z rodu Lucemburků
8. první manželka Karla IV.


Cvičení č. 5: Nakreslete středověký hrad a popište jej – charakterizujte (z hlediska architektury, funkcí).



Cvičení č. 6: Navrhněte svůj vlastní erb, popište na něm uvedené symboly a charakterizujte rytířský stav.



Cvičení č. 7: Zakreslete typické rysy pro gotickou architekturu, popište její znaky a uveďte alespoň tři příklady gotických architektonických památek.



Cvičení č. 8: Charakterizujte osobnost Karla IV. a formulujte alespoň tři aplikace pro náš současný život (jaké ponaučení si z jeho života můžeme vzít)?



Cvičení č. 9: Popište, co to byly cechy, jak fungovaly a navrhňte alespoň 5 znaků označující řemeslné dílny.



Cvičení č. 10: Vypište rozdíly mezi středověkým městem a vesnicí. Minimálně 3 rozdíly.

| Město | Vesnice |
|-------|---------|
| | |

Cvičení č. 11: Vytvořte časovou osu a na ní zaznamenejte alespoň 10 důležitých událostí během vlády posledních Přemyslovců a Lucemburků – určete rok a napište název události.

| |
|--|
| |
|--|

Cvičení č. 12: Seznamte se s aplikací DIPITY a popište její funkce, charakterizujte jí.

Webový odkaz: www.dipity.com

| |
|--|
| |
|--|